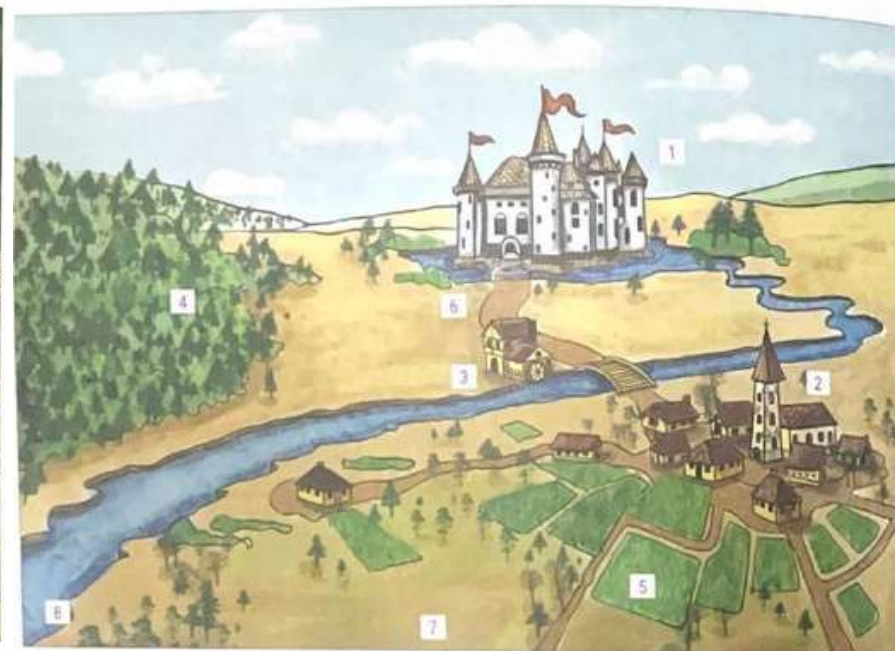
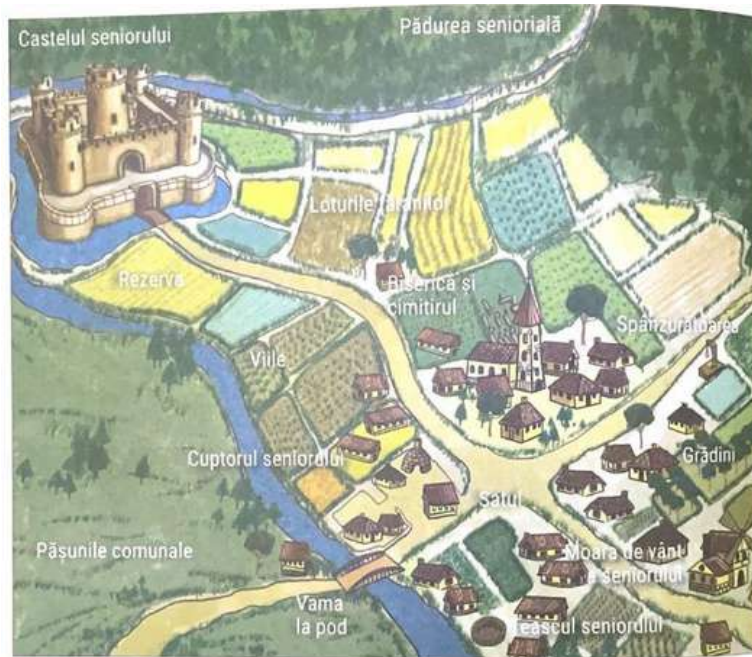


# Sistemul feudal



*Domeniu feudal ( Ochescu, M.,Caiet de istorie, Ed. Art, București, 2018, 158 și 162)*

Pe baza celor două imagini, identificați principalele elemente componente ale unui domeniu feudal, apoi completați spațiile de mai jos:

1. ....
2. ....
3. ....
4. ....

5. ....
6. ....
7. ....
8. ....

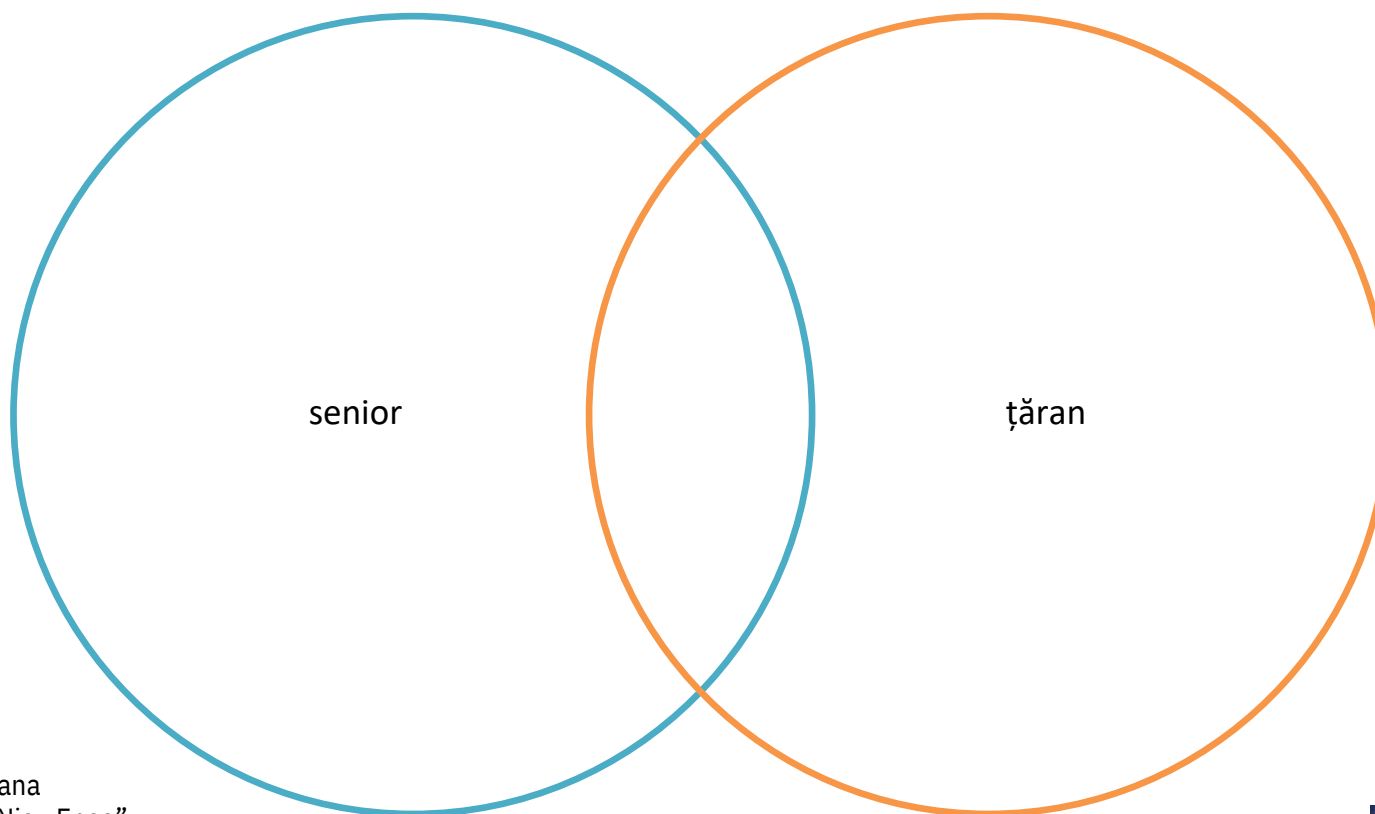
**Profesor:** Solomon Ioana  
**Școala:** Gimnazială „ Nicu Enea”  
**Cluster:** Bacău  
**Aria de intervenție:** Comprehensiune

**Se dă următorul text:**

"Împărțirea nobililor în seniori și vasali se numește ierarhie feudală. Vasalul era obligat să recunoască dependența de senior, care îi oferă pământ. El depune omagiu față de senior declarând că devine *omul lui*.

În schimbul jurământului, seniorul dădea vasalului o feudă. Acest tip de relație presupunea onorarea unor obligații. Vasalul se obliga să respecte persoana, familia, onoarea și averea seniorului, să îl însoțească la război, să ofere ajutor bănesc și îndatoririle de sfat. Seniorul era dator să îl susțină, să îi facă dreptate, să îl sfătuiască și să îi ocrotască familia."

Pornind de la informațiile din text, completează diagrama Venn.



**Profesor:** Solomon Ioana  
**Școala:** Gimnazială „Nicu Enea”  
**Cluster:** Bacău  
**Aria de intervenție:** Comprehensiune