
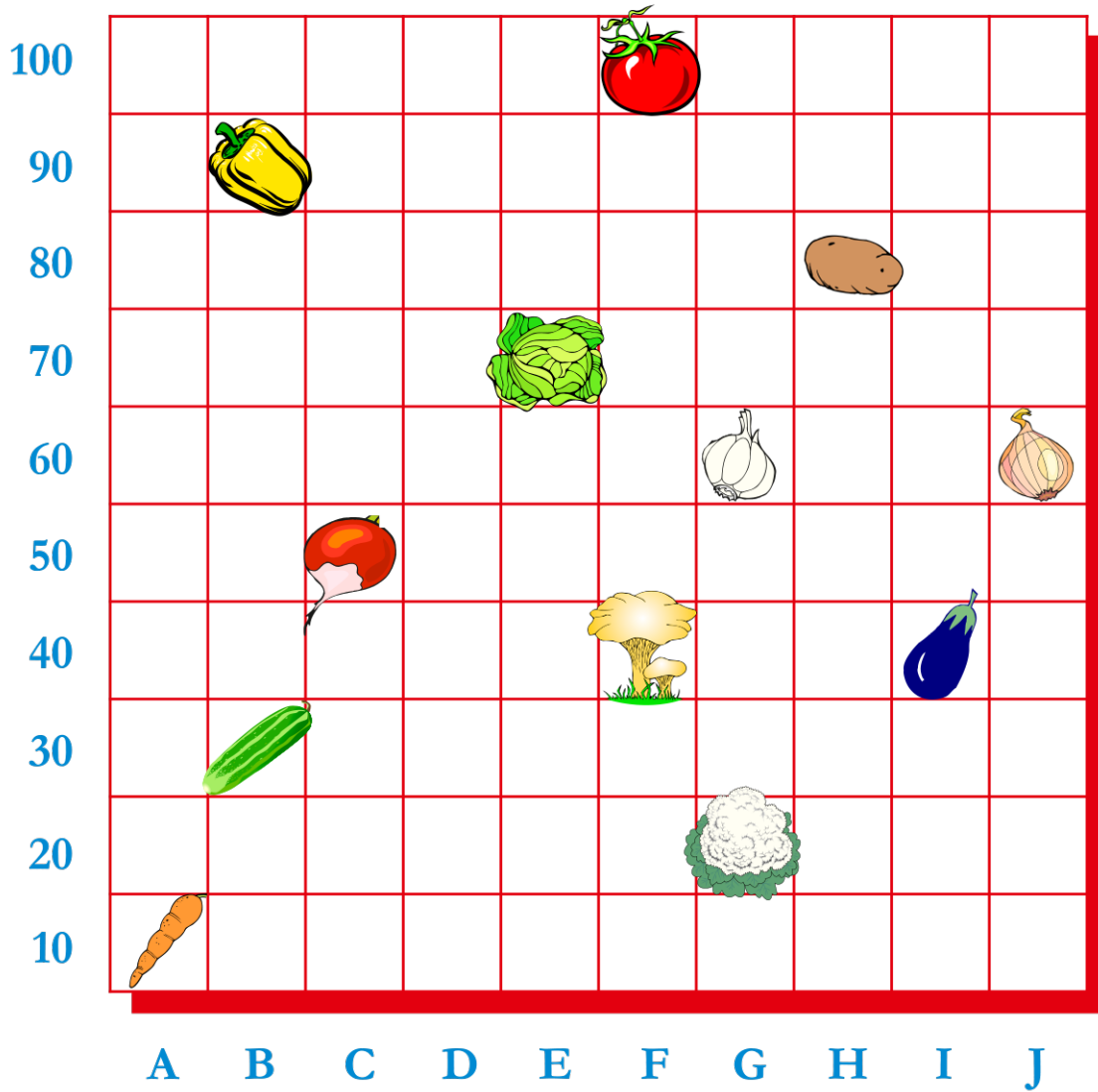


Exemplu: Privește tabelul și apoi spune în ce căsuță este leguma.



2		
1		
	A	B

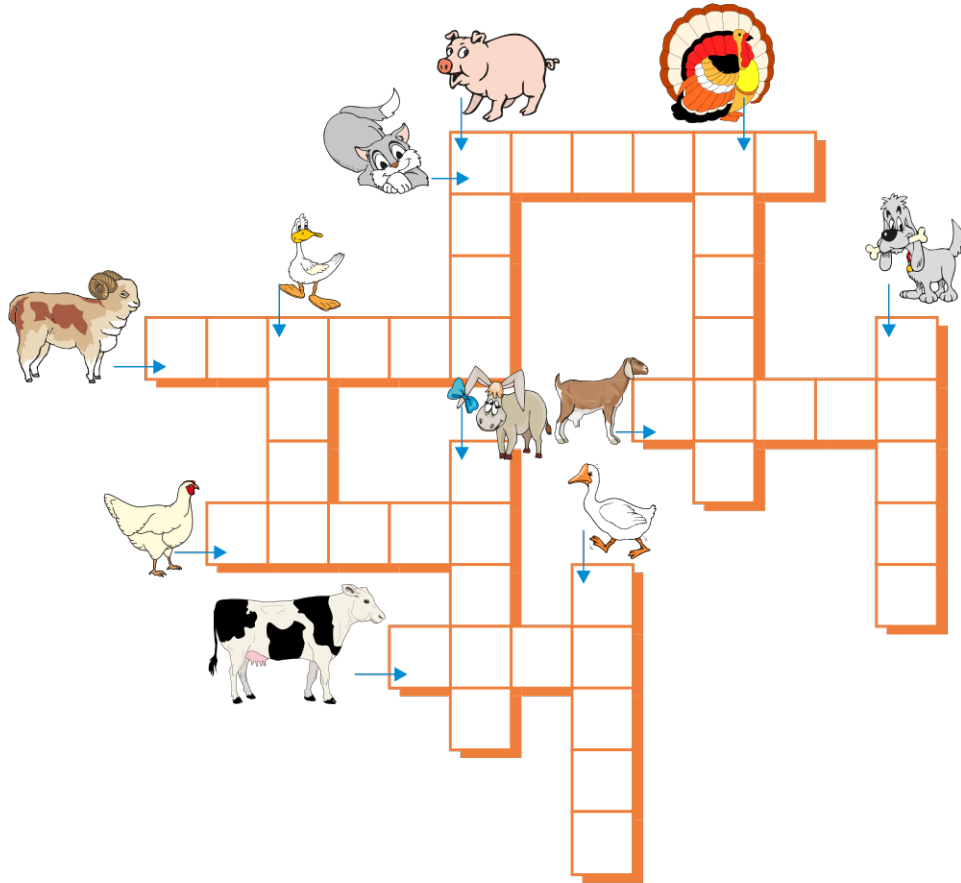
Privește tabelul și apoi răspunde la întrebare.



În ce căsuțe se află legumele de mai jos?

- |          |           |            |              |
|----------|-----------|------------|--------------|
| ARDEI –  | VARZĂ –   | RIDICHE –  | CASTRAVETE – |
| ROȘIE –  | USTUROI – | CIUPERCI – | MORCOV –     |
| CARTOF – | CEAPĂ –   | VÂNĂTĂ –   | CONOPIDĂ –   |

Privește imaginile și scrie numele animalelor.

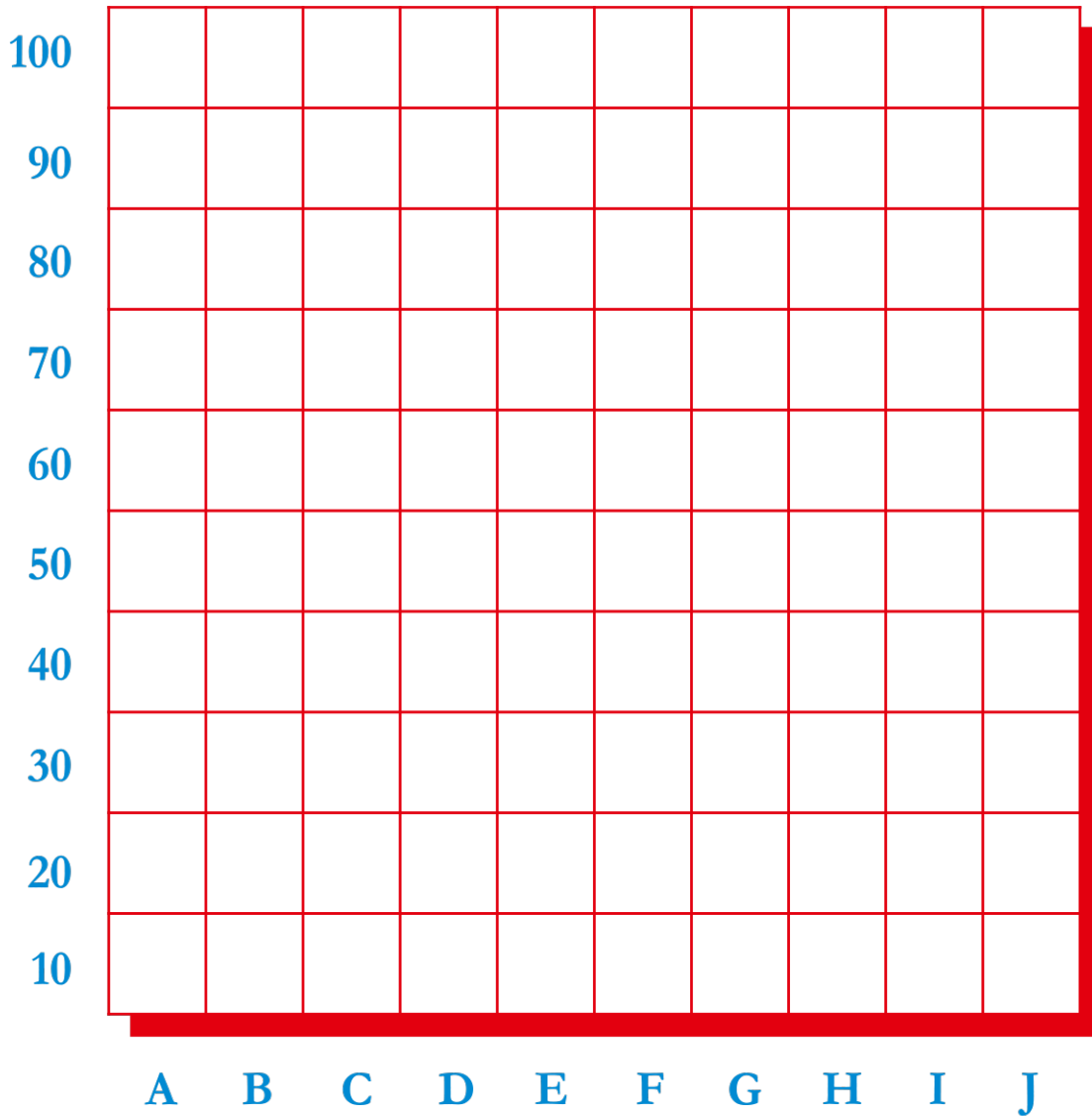


Colorează cu galben căsuțele indicate mai jos. Ce ai obținut?

- |       |      |       |
|-------|------|-------|
| B, 1  | D, 4 | G, 9  |
| B, 2  | D, 7 | H, 2  |
| B, 3  | D, 8 | H, 3  |
| B, 8  | D, 9 | H, 8  |
| B, 9  | E, 5 | H, 9  |
| B, 10 | F, 5 | I, 1  |
| C, 2  | F, 6 | I, 2  |
| C, 3  | G, 2 | I, 3  |
| C, 8  | G, 3 | I, 8, |
| C, 9  | G, 4 | I, 9  |
| D, 2  | G, 7 | I, 10 |
| D, 3  | G, 8 |       |

(FLOARE)

10										
9										
8										
7										
6										
5										
4										
3										
2										
1										
	A	B	C	D	E	F	G	H	I	J



Desenează fiecare imagine în căsuța potrivită.

😊 în A,  $90 + 10$

✋ în F,  $54 + 36$

⬡ în B,  $32 + 38$

☆ în I,  $23 + 57$

◇ în G,  $52 + 8$

◐ în A,  $13 + 7$

□ în H,  $11 + 89$

⊠ în E,  $15 + 5$

💧 în C,  $4 + 6$

↓ în E,  $23 + 47$

⊠ în C,  $45 + 45$

➤ în B,  $31 + 19$

⬆️ în D,  $18 + 22$

■ în J,  $25 + 25$

☹️ în F,  $13 + 17$

★ în H,  $16 + 4$